

流体力学 II 試験問題 (2)

1996-2-13, 12:45~14:25

by E. Yamazato

1. (25) 図 1 に示すようなポンプを含む管路がある。ポンプの吸い込み側タンクは密閉され、 $p_1 = 35kPa$ (ゲージ圧) の圧力が水面に作用しており、その水面はポンプ軸心より $4.5m$ 下にある。ポンプの流量を $0.1m^3/s$ にするために必要な (1) 動力および (2) ポンプの吸い込み側の圧力を求めよ。ただし管摩擦損失以外の損失は無視する。
2. (25) 水平に置かれた直径 $100mm$ 、長さ $3m$ の吸い込管 ($k=0.26mm$) を経て水を吸い上げ、さらに高さ $20m$ の所にあるタンクまで直径 $150mm$ 、長さ $30m$ の鋳鉄管 ($k=0.26mm$) を用いて揚水する。流量 $60L/s$ を出すのに必要なポンプ動力を求めよ。またエネルギー線を描け。ただし水の $\nu = 0.011cm^2/s$ とし、管摩擦損失以外の損失は無視する。(Moody Diagram を使用してよい。)
3. (25) 図 2 に示すようにポンプによって燃料油が直径 $400mm$ 、長さ $1.83km$ の鋼管 ($k=1.3mm$) を通じてタンクに $300L/s$ 送られている。A 点の圧力を $13.5kPa$ とすればポンプの動力はいくらになるか。また B 点の圧力はいくらか。ただし、燃料油の比重および動粘性係数は、それぞれ $0.86, 5.2mm^2/s$ である。また管摩擦損失以外の損失は無視する。
4. (25) 同じ断面積、同じ摩擦損失、同じ長さを持つ円管とよりなる長方形断面のダクトを流れる乱流において、管摩擦損失水頭が等しければ流量比は幾らになるか。ただし、両管 (ダクト) の摩擦損失係数は等しいものとする。
5. (25) 図 3 に示す 3 水槽で間間間にそれぞれベルヌーイの式を適応して H' を三つの式で表せ。ただし損失は管摩擦損失のみとする。

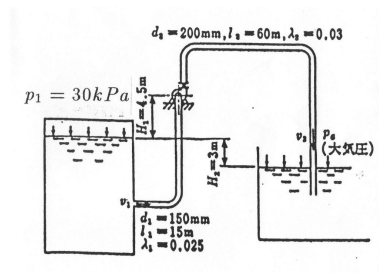


図 1

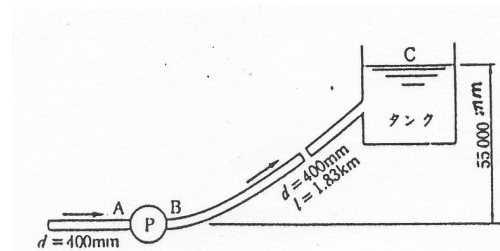


図 2

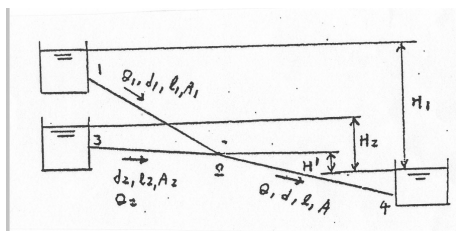


図 3

(解)

1.

$$\frac{p_1}{\rho g} + H_p = \left[\lambda_1 \frac{l_1}{d_1} + \lambda_2 \frac{l_2}{d_2} \left(\frac{d_1}{d_2} \right)^4 \right] \frac{v_1^2}{2g} - H_2 + \frac{p_a}{\rho g}$$

$$v_1 = \frac{4Q}{\pi d_1^2} = \frac{4 \times 0.1}{\pi 0.15^2} = 5.66 \text{ m/s}$$

$$\frac{35 \times 10^3}{10^3 g} + H_p = \left[0.025 \frac{15}{0.15} + 0.03 \frac{60}{0.2} \left(\frac{150}{200} \right)^4 \right] \frac{5.66^2}{2g} - 3$$

$$H_p = (2.5 - 2.85) \times 1.63 - 3 - 3.57 = 8.72 - 6.57 = 2.15 \text{ m}$$

$$L = \rho g Q H_p = 10^3 g \times 0.1 \times 2.15 = 2.1 \text{ kw}$$

$$p_s = p_1 - \rho g H_1 - \lambda_1 \frac{l_1}{d_1} \frac{\rho v_1^2}{2} = 3.5 \times 10^3 - 44.1 \times 10^3 - 40 \times 10^3 = -49.1 \text{ kPa}$$

2.

$$H_p = H + \sum \lambda_i \frac{l_i}{d_i} \frac{v_i^2}{2g}$$

$$\frac{k_1}{d_1} = \frac{0.26}{100} = 0.0026, \quad v_1 = \frac{4 \times 0.06}{\pi 0.1^2} = 7.6 \text{ m/s}, \quad Re_1 = \frac{7.6 \times 0.1}{1.1 \times 10^{-6}} = 6.9 \times 10^5$$

$$\frac{k_2}{d_2} = \frac{0.26}{150} = 0.00173, \quad v_2 = \frac{4 \times 0.06}{\pi 0.15^2} = 3.39 \text{ m/s}, \quad Re_2 = \frac{3.39 \times 0.15}{1.1 \times 10^{-6}} = 4.6 \times 10^5$$

$$\lambda_1 = 0.0258, \quad \lambda_2 = 0.024$$

$$H_p = 20 + 0.025 \frac{3}{0.1} \frac{7.6^2}{2g} + 0.024 \frac{30}{0.15} \frac{3.39^2}{2g} = 20 + 2.28 + 2.8 = 25.08 \text{ m}$$

$$L = \rho g Q H_p = 10^3 g \times 0.06 \times 25.08 = 14.74 \text{ kw}$$

3.

$$v = \frac{4Q}{\pi d^2} = 2.38 \text{ m/s}, \quad Re = \frac{vd}{\nu} = 1.83 \times 10^5$$

$$\frac{k}{d} = 0.00325, \quad \lambda = 0.028 \text{ (Moody diagram)}$$

$$h_l = 0.028 \frac{1830}{0.4} \times \frac{2.38^2}{2g} = 37.02 \text{ m}$$

$$\frac{p_A}{\rho g} + \frac{v^2}{2g} + H_p = \frac{v^2}{2g} + z_c + h_l$$

$$H_p = z_c + h_l - \frac{p_A}{\rho g}$$

$$H_p = 55 + 37.02 - \frac{13.5 \times 10^3}{0.86 \times 10^3 g} = 90.41 \text{ m}$$

$$L = \rho g Q H_p = 860 g \times 0.3 \times 90.4 = 228.57 \text{ kw}$$

$$p_B = p_A + \rho g H_p = 13.5 \times 10^3 + 860 g \times 90.41 = 775.4 \text{ kPa}$$

4.

$$h_1 = \lambda_1 \frac{l}{d} \frac{v_1^2}{2g}, \quad h_2 = \lambda_2 \frac{l}{4m} \frac{v_2^2}{2g}$$

$$m = \frac{a \times 2a}{6a} = \frac{a}{3}, \quad 4m = \frac{4}{3}a, \quad \frac{\pi d^2}{4} = 2a^2, \quad \frac{a}{d} = \sqrt{\frac{\pi}{8}}$$

$$\frac{Q_2}{Q_1} = \frac{Av_2}{Av_1} = \left(\frac{\lambda_1}{\lambda_2} \frac{4m}{d} \right)^{1/2} = \left(\frac{\lambda_1}{\lambda_2} \frac{4a}{3d} \right)^{1/2} = \left[\frac{\lambda_1}{\lambda_2} \frac{4}{3} \left(\frac{\pi}{8} \right)^{1/2} \right]^{1/2} = 0.914 \left(\frac{\lambda_1}{\lambda_2} \right)^{1/2}$$

5.

$$H = \frac{v^2}{2g} \left(1 + \frac{\lambda l}{d}\right) = \frac{1}{2g} \left(\frac{4 \times Q^2}{\pi d^2}\right) \left(1 + \frac{\lambda l}{d}\right) = \frac{1}{2g} \left(\frac{5 \times 4 \times Q^2}{\pi D^2}\right) \left(1 + \frac{\lambda l}{D}\right)$$

$$\frac{d + \lambda l}{d^5} = \frac{25(D + \lambda l)}{D^5}, \quad D = 1.9d \left(\frac{D + \lambda l}{d + \lambda l}\right)^{1/5}$$

If no outlet losses, $D = 1.9d$

(別解)

$$v = \sqrt{\frac{2gH}{\lambda l/d + 1}}, \quad V = \sqrt{\frac{2gH}{\lambda l/D + 1}}$$

$$5Q = 5 \left\{ \frac{\pi d^2}{4} \sqrt{\frac{2gH}{\lambda l/d + 1}} \right\} = \frac{\pi D^2}{4} \sqrt{\frac{2gH}{\lambda l/D + 1}}$$

$$D = 1.9d \left(\frac{D + \lambda l}{d + \lambda l}\right)^{1/5}$$

If no outlet losses, $D = 1.9d$

6.

$$H' = \lambda \frac{l}{d} \frac{v^2}{2g} - \frac{p_2}{\rho g} = \lambda \frac{l}{d} \frac{1}{2g} \left(\frac{Q}{A}\right)^2 - \frac{p_2}{\rho g}$$

$$H' = H_1 - \lambda_1 \frac{l_1}{d_1} \frac{1}{2g} \left(\frac{Q_1}{A_1}\right)^2 - \frac{p_2}{\rho g}$$

$$H' = H_2 - \lambda_2 \frac{l_2}{d_2} \frac{1}{2g} \left(\frac{Q_2}{A_2}\right)^2 - \frac{p_2}{\rho g}$$